

Smyslová soustava – pracovní list 3

Při vyplňování tohoto pracovního listu **můžeš používat pracovní list 2**, ale snaž se do něj nahlížet co nejméně.

2) Ke smyslu přiřaď smyslové orgány a dokonči větu:

nos	jazyk	kůže	oči	uši	uši
-----	-------	------	-----	-----	-----

- Zrak – _____
- Chut' – _____
- Hmat – _____
- Čich – _____
- Sluch – _____

Orgánem pro rovnovážné ústrojí jsou _____ .






3) Dopln, kterým smyslem vnímáme tyto podněty. Smysly se mohou opakovat.

- Zvuk – _____
- Slané – _____
- Vůně – _____
- Bolest – _____
- Světlo – _____
- Teplo – _____
- Kyselé – _____
- Barva – _____

Doplň větu:

Pokud bychom skákali ve tmě, kterým ústrojím tento podnět vnímáme? _____

4) Spoj, co k sobě patří – obrázek smyslového orgánu, který smysl v něm sídlí a vnímaný podnět.

	CHUŤ	slané, sladké, kyselé a hořké
	ČICH	světlo, barvy, tvar a pohyb
	HMAT	zvuk poloha a pohyb
	SLUCH ROVNOVÁHA	dotyk, bolest, chlad a teplo
	ZRAK	vůně a pachy

Po zkontrolování všech pracovních listů napiš počet celkově správných odpovědí ____ .

(V úloze 4 za správnou odpověď považujeme správně spojenou celou trojici.)

Bodové hodnocení (vyplní učitel):

Za každou správnou odpověď 1 bod. Dosažený počet bodů: ____ (Celkem max. 20 bodů)