











## Dopravní značky – zadání B

### 1. Doplňte následující tabulku

			
<b>Zákaz vjezdu všech vozidel (v obou směrech)</b>			
			
		<b>Zatáčka vpravo</b>	
			

			
<b>Hlavní pozemní komunikace</b>	<b>Dej přednost v jízdě!</b>		
			



**2. Tuto stránku si přelož na dvě půlky. První slouží tobě, na druhé budeš ukazovat spolužákovi značky, které si má zapamatovat.**









Podívej se na dopravní značky, co ti ukáže spolužák, máš 90 sekund na zapamatování. Pokus se nejen vybavit, jaké značky byly zobrazeny, ale i jejich pořadí.

Po uplynutí času si značky napiš či nakresli.

<b>1.</b>	<b>2.</b>	<b>3.</b>	<b>4.</b>
<b>5.</b>	<b>6.</b>	<b>7.</b>	<b>8.</b>

Až budete mít oba hotovo, tak si výsledky vzájemně zkontrolujte a za každou správně zapsanou nebo nakreslenou značku si dej jeden bod.

Tyto značky ukaž spolužákovi:

			
<b>1.</b>	<b>2.</b>	<b>3.</b>	<b>4.</b>
			
<b>5.</b>	<b>6.</b>	<b>7.</b>	<b>8.</b>

**3. Stránku si přelož na dvě půlky. První slouží tobě, z druhé půlky budeš spolužákovi číst značky, které si bude muset zapamatovat.**

Spolužák ti během 90 sekund několikrát přečte po sobě jdoucí značky. Tvým úkolem je si je zapamatovat ve správném pořadí.

Po uplynutí času si značky napiš:

<b>1.</b>	<b>2.</b>	<b>3.</b>	<b>4.</b>
<b>5.</b>	<b>6.</b>	<b>7.</b>	<b>8.</b>

Až budete mít oba hotovo, tak si výsledky vzájemně zkontrolujte a za každý správně zapsaný název si dej jeden bod.

**Tyto názvy značek přečti spolužákovi:**

<b>1.</b>	<b>2.</b>	<b>3.</b>	<b>4.</b>
Hlavní pozemní komunikace	Přechod pro chodce	Zatáčka vpravo	Zákaz vjezdu jízdních kol
<b>5.</b>	<b>6.</b>	<b>7.</b>	<b>8.</b>
Zúžená vozovka	Zastávka autobusu	Konec hlavní pozemní komunikace	Stůj, dej přednost v jízdě!

**4. Stránku si přelož na dvě půlky. První slouží tobě, druhou ukážeš spolužákovi na 90 sekund, aby si názvy značek zapamatoval.**

Spolužák ti během 90 sekund bude ukazovat názvy značek, máš za úkol si je zapamatovat ve správném pořadí.

<b>1.</b>	<b>2.</b>	<b>3.</b>	<b>4.</b>
<b>5.</b>	<b>6.</b>	<b>7.</b>	<b>8.</b>

**Tyto názvy značek ukaž spolužákovi:**

<b>1.</b>	<b>2.</b>	<b>3.</b>	<b>4.</b>
Zákaz vstupu chodců	Podchod nebo nadchod	Kruhový objezd	Zákaz vjezdu všech vozidel (v obou směrech)
<b>5.</b>	<b>6.</b>	<b>7.</b>	<b>8.</b>
Konec stezky pro chodce	Stůj, dej přednost v jízdě!	Křižovatka s vedlejší pozemní komunikací	Zastávka trolejbusu



5. Vyzkoušel/a sis teď několik způsobů učení. Jaký způsob je pro tebe nejlepší? Vyhovovalo ti nejvíce, když ti názvy značek někdo četl, nebo když sis je četl sám? Nebo dáváš přednost zapamatování pomocí jejich vizuální podoby?

6. Napadá tě, jak by sis dokázal značky zapamatovat lépe? Rozepiš, co by ti v učení značek a toho, jak šly za sebou, mohlo pomoci.

7. Společně jste vytvořili se spolužákem tým, vzájemně jste si ukazovali a četli značky. Teď je tvým úkolem zamyslet se a ohodnotit sebe, jak jsi spolužákovi pomáhal. Dej si známku (napíš ji pod tento text) jako při hodnocení ve škole.

Stejně jako jsi hodnotil sebe, zkus ohodnotit spolužáka. Dej mu známku podle toho, jak se ti s ním spolupracovalo.



Zdroje obrázků:

By Government of the Czech Republic - [1], Public Domain,  
<https://commons.wikimedia.org/w/index.php?curid=26926243>

By Ministerstvo dopravy a spojů České republiky -  
<http://aplikace.mvcr.cz/archiv2008/sbirka/2001/sb011-01.pdf>, Public Domain,  
<https://commons.wikimedia.org/w/index.php?curid=16960901>

By Government of the Czech Republic - [1], Public Domain,  
<https://commons.wikimedia.org/w/index.php?curid=26880007>

By Frisky007 - Own work, CC BY-SA 3.0,  
<https://commons.wikimedia.org/w/index.php?curid=10802320>

By Government of the Czech Republic - Ministry of Transport, Public Domain,  
<https://commons.wikimedia.org/w/index.php?curid=114779862>

By Frisky007 - Own work, CC BY-SA 3.0,  
<https://commons.wikimedia.org/w/index.php?curid=10802129>

By Government of the Czech Republic - [1], Public Domain,  
<https://commons.wikimedia.org/w/index.php?curid=26880660>

By Government of the Czech Republic - [1], Public Domain,  
<https://commons.wikimedia.org/w/index.php?curid=26880659>

By Government of the Czech Republic - [1], Public Domain,  
<https://commons.wikimedia.org/w/index.php?curid=26898133>

By Frisky007 - Own work, CC BY-SA 3.0,  
<https://commons.wikimedia.org/w/index.php?curid=10802400>

By Government of the Czech Republic - [1], Public Domain,  
<https://commons.wikimedia.org/w/index.php?curid=26926242>

By Frisky007 - Own work, CC BY-SA 3.0,  
<https://commons.wikimedia.org/w/index.php?curid=10802624>

Staženo z webu <https://www.bezpecnecesty.cz/cz/autoskola/dopravni-znacky/informativni-dopravni-znacky/ij-4c-zastavka-autobusu>

By Ministerstvo dopravy a spojů České republiky - Vyhláška č. 30/2001 Sb., kterou se provádějí pravidla provozu na pozemních komunikacích a úprava a řízení provozu na pozemních komunikacích (Sbírka zákonů, částka 11/2001 - 36,3 MB!), Public Domain,  
<https://commons.wikimedia.org/w/index.php?curid=4212693>

By Frisky007 - Own work, CC BY-SA 3.0,  
<https://commons.wikimedia.org/w/index.php?curid=10801664>

By Ministerstvo dopravy a spojů České republiky - Vyhláška č. 30/2001 Sb., kterou se provádějí pravidla provozu na pozemních komunikacích a úprava a řízení provozu na pozemních komunikacích (Sbírka zákonů, částka 11/2001 - 36,3 MB!), Public Domain,  
<https://commons.wikimedia.org/w/index.php?curid=2388723>

By Ministerstvo dopravy a spojů České republiky -  
<http://aplikace.mvcr.cz/archiv2008/sbirka/2001/sb011-01.pdf>, Public Domain,  
<https://commons.wikimedia.org/w/index.php?curid=16960844>

