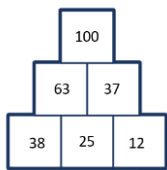


Matematické hříčky – pracovní list 1

Jméno

Doplňuj číselné pyramidy.

1. Nejdřív se podívej na vzor. Co musí platit v každé pyramidě?




.....

.....


2. Anička s kamarády právě řeší jednu pyramidu. Na obrázku vidíš jejich pokusy. Pomoz jim.

1

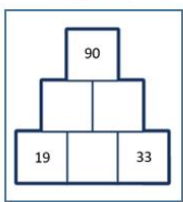
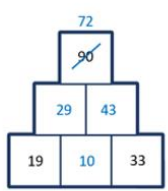
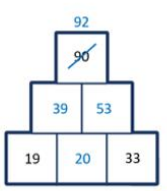
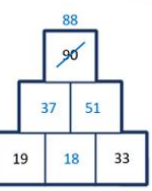
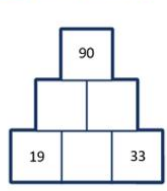


Nejdřív jsem dosadila číslo 10, počítala, ale nevyšlo mi to.


2



Hm, a pak jsi zkusila dosadit číslo 20? To jsi byla hodně blízko.








3



18 ale také není to správné číslo.

4



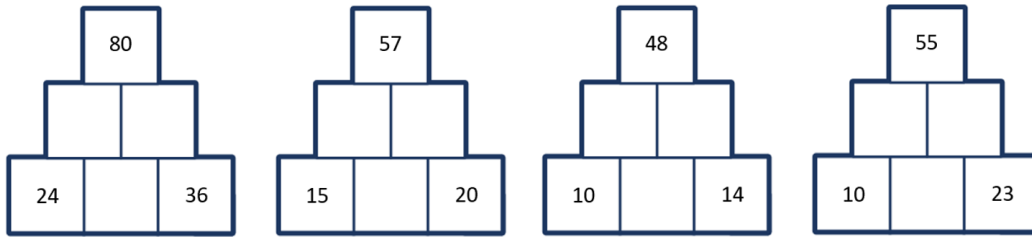
Co zkusíme udělat teď?

Napiš, co mají zkusit kamarádi udělat a proč. Až pak zapiš do obrázků s pyramidami své řešení.

.....

.....

3. Prohlédni si další pyramidy.



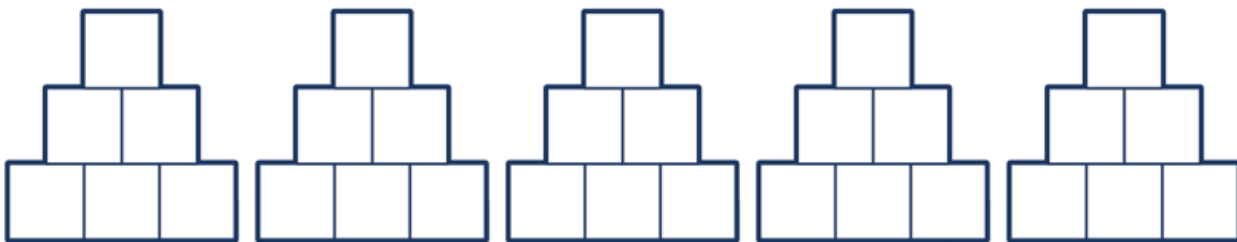
Vyber jednu z nich (označ zakroužkováním).

Napiš, co všechno musíš udělat k jejímu vyřešení.

.....

.....

4. Nyní pyramidu vypočítej.



5. Vyřeš zbývající pyramidy z úlohy 3.

