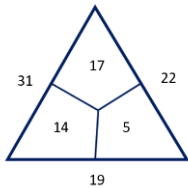


## Matematické hříčky – pracovní list 2

**jméno** .....

**Doplňuj číselné trojúhelníky.**

1. Nejdřív se podívej na vzor. Co musí platit v každém trojúhelníku?




.....

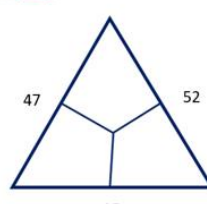
.....

2. Anička s kamarády právě řeší jeden trojúhelník. Na obrázku vidíš jejich pokusy. Pomoz jim.


1



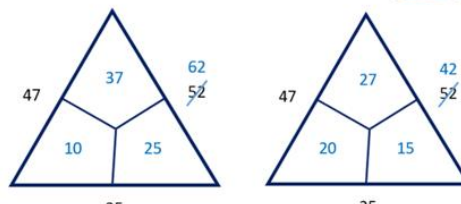
Nejdřív jsem dosadila číslo 10, počítala, ale nevyšlo mi to.




2



Hm, a pak jsi zkusila dosadit číslo 20? To ale také není dobře.




3



62 bylo o 10 víc.

4



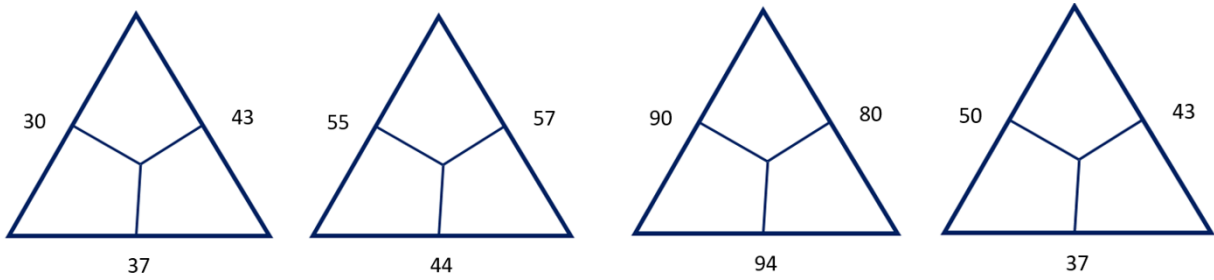
A 42 zase o 10 míň.  
Co zkusíme udělat teď?

Napiš, co mají zkusit kamarádi udělat a proč. Až pak zapiš do obrázků s trojúhelníky své řešení.

.....

.....

3. Prohlédni si další trojúhelníky.



Vyber jeden z nich (označ zakroužkováním).  
Napiš, co všechno musíš udělat k jeho vyřešení.

.....

.....

4. Nyní trojúhelník vypočítej.



5. Vyřeš zbývající trojúhelníky z úlohy 3.

