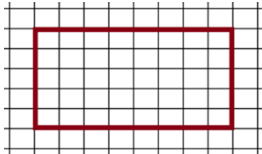
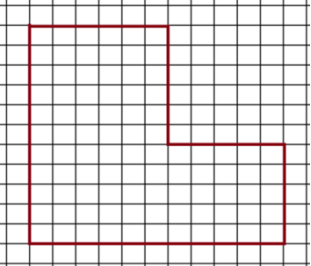
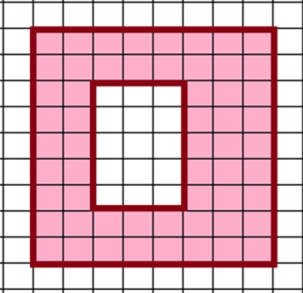
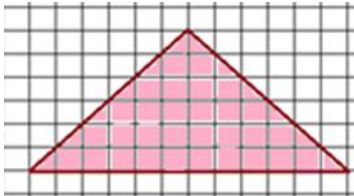

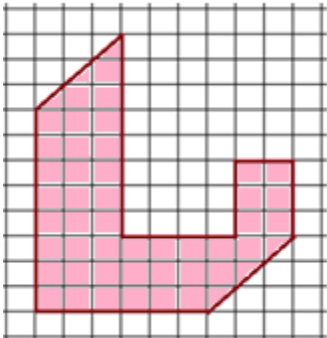


Rovinné obrazce – 6. ročník – zadání 2

Úlohy na obvod a obsah rovinných obrazců.

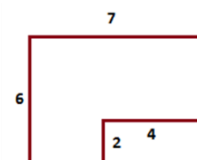
Skupina obdrží jednu sadu zadání prvních šesti úloh. (V týmu se pak domlouvají, kdo kterou bude řešit.)

Čtvereček má stranu velikosti 1 cm.

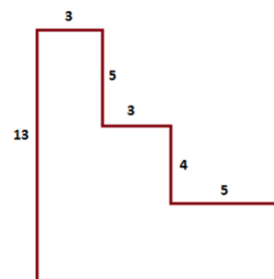
<p>1. Vypočítej obvod a obsah obrazce.</p>	
<p>2. Vypočítej obvod a obsah obrazce.</p>	
<p>3. Vypočítej obsah obrazce.</p>	
<p>4. Vypočítej obsah obrazce.</p>	
<p>5. Vypočítej obsah obrazce.</p>	
<p>6. Vypočítej obsah obrazce.</p>	

Další úlohy žáci získají výměnou za správně vyřešené úlohy. Pro tým vždy už jen v jednom výtisku. Jednotka je centimetr.

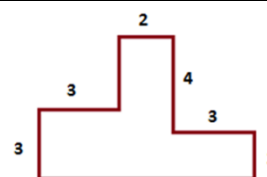
7. Vypočítej obvod a obsah obrazce.



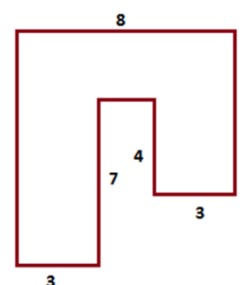
8. Vypočítej obvod a obsah obrazce.



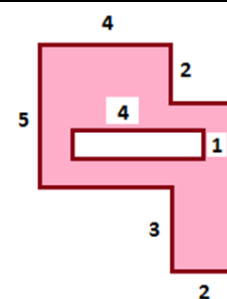
9. Vypočítej obvod a obsah obrazce.



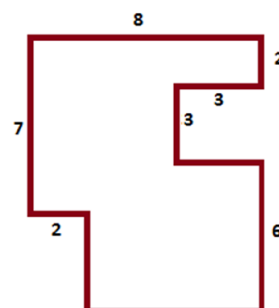
10. Vypočítej obvod a obsah obrazce.



11. Vypočítej obvod a obsah obrazce.



12. Vypočítej obvod a obsah obrazce.



Zdroj obrázků: Autorský tým

