
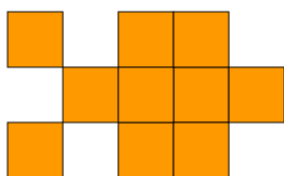
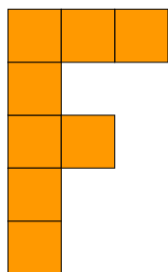


Zakreslování do čtvercové sítě – pracovní list

- Anička do čtvercové sítě nakreslila obrázek tak, že vybarvila 10 čtverečků, které spolu sousedí stranou nebo vrcholem. Nakresli pomocí 10 čtverečků jiný takový obrázek.



- Filip nakreslil do čtvercové sítě místo obrázku písmeno F. Nakresli takto jiné písmeno. Má stejný počet čtverečků jako Filipovo F?


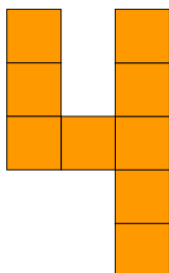


Moje písmenko


.....

má čtverečků.


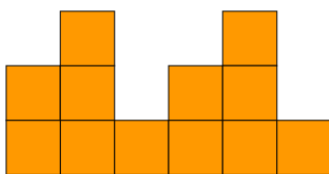
- Pět'a takto umí psát i číslice. Nakresli ve čtvercové síti jinou číslici.



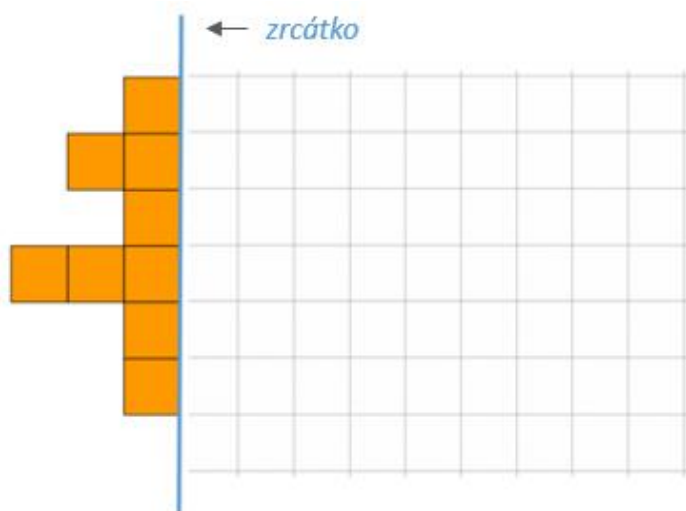
4. Víky hledala písmenka a číslice, která jsou podobná. Našla třeba E a 3. Zakresli jinou takovou dvojici.



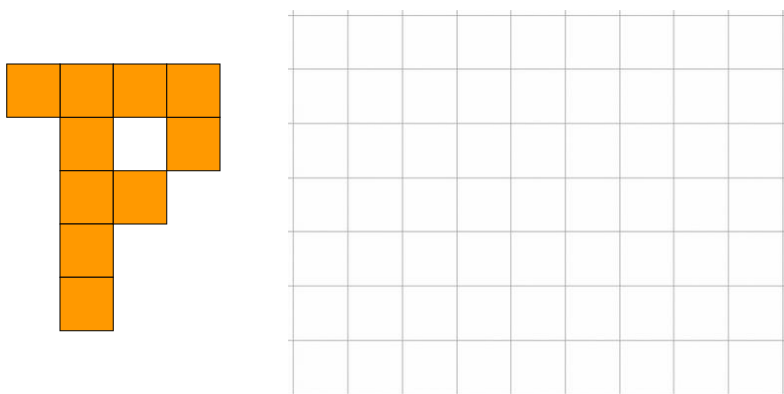
5. Míra začal kreslit zeď. Pokračuj podle Míry.




6. Hanička připravila půlku obrázku. Dokresli jeho druhou polovinu jako podle zrcátka (modré úsečky).




7. Lukáš seděl proti Tomášovi a dívali se společně na jeden obrázek položený na stole před nimi. Nakresli, jak viděl obrázek druhý z chlapců.



8. Sára chtěla nakreslit tento obrázek:



Připravila si už čtyři čtverečky. Pak jí ale papír se sítí spadl na zem. Když jej zvedla, nevěděla, jak obrázek dokreslit. Dokresli původní obrázek místo Sáry.



Zdroje obrázků: Autorský tým