


Zakreslování do tečkované sítě – pracovní list


1. Anetka nakreslila do tečkované sítě plán cesty dlouhý 12 čárek. Nakresli také plán dlouhý 12 čárek (chodit můžeš podle vzoru Anetky jen vodorovně a svisle, nikdy ne šikmo).



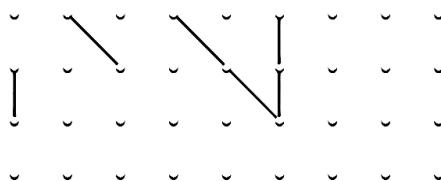
2. Simonka kreslila do tečkované sítě písmenka. Povedlo se jí S a M. Nakresli také dvě písmenka ze svého jména.




3. Pavlík zakreslil do tečkované sítě dvojciferná čísla. Zkus zakreslit nějaké trojciferné číslo.



4. Dominika kreslila do tečkované sítě pravidelný vzor. Pak vymyslela hádanku. Ze svého vzoru do nové sítě překreslila jen některé čárky. Dokresli chybějící čárky tak, aby byl vzor skutečně pravidelný.

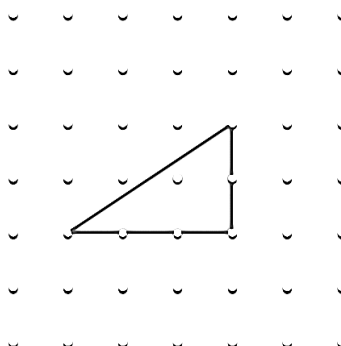


5. Marek zakreslil jednu stranu čtverce. Dokresli modrou pastelkou celý čtverec.

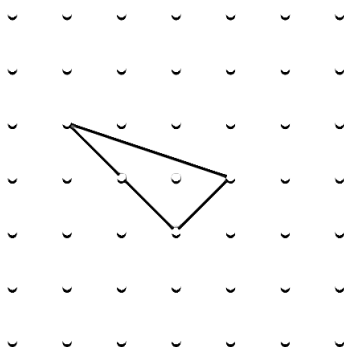


6. Do předchozího obrázku dokresli k Markově jedné straně červenou pastelkou celý obdélník. Pokud takových obdélníků nalezneš více, zakresli je jinými barvami.

7. Vojta nakreslil trojúhelník. Dokresli k jeho trojúhelníku další trojúhelník, aby ti vznikl obdélník.



8. Ema také nakreslila svůj trojúhelník. Dokresli i k jejímu trojúhelníku další, aby vznikl obdélník.



9. Lucka do sítě zakreslila pomocí 12 čárek (kreslila jen vodorovně nebo svisle) uzavřenou ohrádku. Zakresli ji také. Nakresli ještě druhou takovou ohrádku, ale tak, aby se obě tvé ohrádky lišily.



Zdroje obrázků: Autorský tým