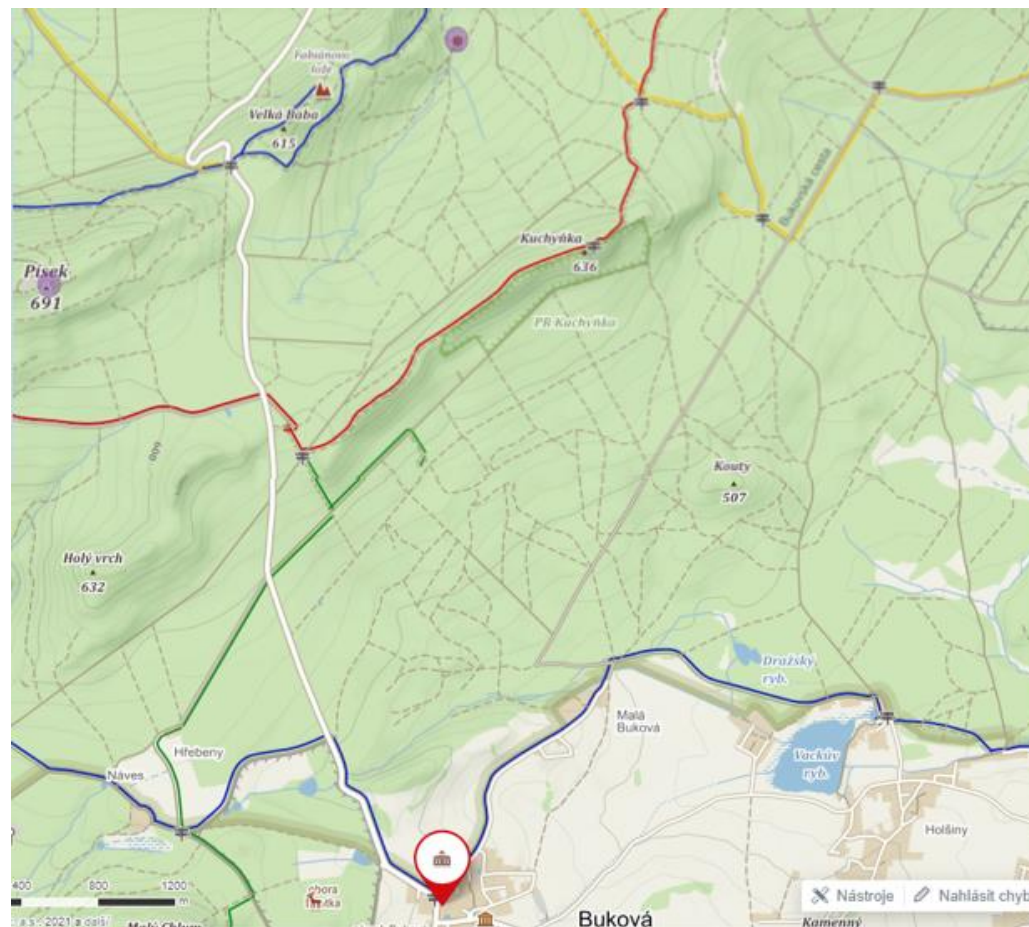


Neztrat' se – pracovní list

1 a) Zakreslete do mapy níže popisovanou trasu. Výchozí bod je na mapě již označen.



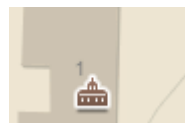
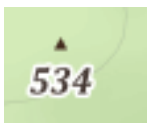
Od rozc. v Bukové nedaleko záměčku (nepřístupný) se vydáme nejprve po modré TZ do Malé Bukové. Za ní na lesní křižovatce modrou opustíme a jdeme vlevo po silničce, ze které brzy zahneme ostře vpravo a postupně začínáme stoupat po tzv. Bukovské cestě vzhůru. Krátce poté, co mineme jeden z partyzánských pomníčků, narazíme na žlutou TZ a spolu s ní se vydáme vlevo. Pravděpodobně nevynecháme krátkou odbočku k Památníku padlým partyzánům, po žluté pak vystoupíme na tzv. Čtyřmezí, kde vpravo končí Hřebený a vlevo začínají samotné Brdy. Jsme na hlavním hřebeni Brd a červené TZ, po které se vydáme vlevo stoupaním na vrch Kuchyňka (636 m) se známou přírodní rezervací. Pokračujeme odtud po ostrém kamenitém hřebeni s častými a pěknými výhledy přes Malý vrch (628 m; výhled) a pak již mírným klesáním směrem k sedlu Pod Provazcem. Tam však již nedojdeme, ale na výrazné lesní křižovatce opustíme červenou značku a zahneme dobře schůdným lesním průsekem vlevo dolů. Po 300 m narazíme na silničku se zelenou TZ a po ní se vydáme vlevo až na její konec u pomníku ruského partyzána. Po zelené se vracíme zpět a tentokrát se již značky držíme, překročíme státní silnici (v zimě se neudrží) a kolem hájovny Hřebený vstoupíme na krásné louky v sedle na rozcestí Náves. Zde přejdeme na modrou značku a podle lesní obory (jelenec viržinský) pak již poměrně brzy dorazíme zpět do Bukové u Příbrami. Pokud nám vyjde čas, můžeme si prohlédnout i zajímavou Čechovu stodolu. Cesta je vhodná i pro fyzicky dobře disponované seniory, převýšení je ovšem značné. Zdroj: *Printscreen ze stránky: <https://mapy.cz/turisticka?x=14.0538351&y=49.7800763&z=13&l=0&q=z%C3%A1mek&source=base&id=1701314&ds=2>*



1 b) Vysvětlete význam následujících symbolů:

Zdroj obrázků: Prinscreen z

<https://mapy.cz/turisticka?x=14.0538351&y=49.7800763&z=13&l=0&q=z%C3%A1mek&source=base&id=1701314&ds=2>



1 c) Změřte vzdálenost vzdušnou čarou mezi místy, která jsou na mapě vyznačena fialovým bodem, a uveďte, jak jste k výsledku dospěli.

