

Základní geografické pojmy na obecně geografické mapě – pracovní list – řešení

1. Vyber správnou odpověď:

Za správně vybraný pojem 1 bod. Maximálně lze získat 7 bodů.

- 1a) Podzemní dutina vytvořená přirozenou cestou se nazývá **jeskyně (c)**.
- 1b) Oáza je místo v poušti se zdrojem **vody (d)**.
- 1c) Horký pramen, který nepravidelně vystřikuje nad zem vodu a vodní páru se nazývá **gejzír (b)**.
- 1d) Rybník se liší od jezera tím, že je **vytvořen uměle (a)**.
- 1e) Skalnatý výběžek pevniny do moře nebo oceánu se nazývá **mys (d)**.
- 1f) Laguna je přírodní nádrž stojaté vody na okraji **moře (b)**.
- 1g) Část oceánu, moře nebo jezera, která se zařezává jako hluboký výběžek do pevniny, se nazývá **záliv (c)**.

2. Rozhodni u následujících tvrzení, zda jsou pravdivá, nebo ne. Pokud ne, **podtrhni jedno slovo (ne sloveso)**, které by bylo potřeba změnit, aby tvrzení bylo pravdivé, a **změň ho**. **Za správné určení pravdivosti/nepravdivosti tvrzení získá žák 1 bod. Za správné podtržení slova, které je třeba změnit, 1 bod. Za správné nahrazení podtrženého slova získá také 1 bod.**

Maximálně lze získat 14 bodů.

- 2a) Poušť je neúrodná oblast, která trpí nedostatkem vody. **PRAVDA**
- 2b) Průplav je přirozeně vytvořená zúžená část moře mezi dvěma částmi pevniny. → **Průliv**
NEPRAVDA
- 2c) Poloostrov je část pevniny, kterou obvykle ze tří stran obklopuje skála. →
moře **NEPRAVDA**
- 2d) Pramen je přirozený vývěr podzemní vody na povrch. **PRAVDA**
- 2e) Poloostrov je část souše, která je zcela obklopená vodní plochou. →
Ostrov **NEPRAVDA**
- 2f) Kaňon je velmi široké říční údolí se strmými svahy. →
hluboké **NEPRAVDA**

3. Přiraď ke geografickým pojmům jejich definice. Do prázdných polí v tabulce doplň na základě níže uvedené nabídky i konkrétní příklady těchto pojmů z Česka. Daný řádek s třemi příklady z Česka se vždy vztahuje k jednomu pojmu v tabulce. Do tabulky stačí vždy napsat pouze příslušné písmeno před řádkem (tj. a, b, c, d, nebo e).


Za každé správně doplněné písmeno 1 bod. Maximálně lze získat 9 bodů.

Pojem	Definice	Příklady z Česka
nížina	c	c
rovina	e	
pánev	b	a
vrchovina	d	b
pahorkatina	a	d


4. Poznej na základě definice, o který geografický prvek se jedná (nemusíš jeho název psát), a přiřaď k definici jeho možnou podobu na mapě.

Za správně vybraný pojem 1 bod. Maximálně lze získat 4 body.

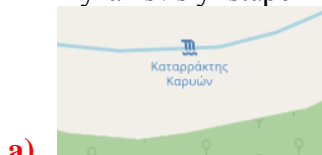
- Trvale zamokřené území, porostlé vlhkomilnými rostlinami.



- Místo, kde proniká nebo pronikalo magma a vulkanické plyny na povrch.



- Příkrý až svislý stupeň v říčním korytě, přes který přepadá vodní tok.



- Přirozená vodní nádrž ve sníženině zemského povrchu.




5. Na základě dvou fotografií pojmenuj prvek krajiny.

Za správně pojmenovaný prvek krajiny 2 body. Maximálně 8 bodů.



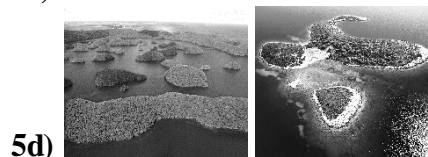
pohoří/hory (kopec/hora za 1 bod)



ledovec



útes (skála/skalisko za 1 bod)



souostroví (ostrovy za 1 bod)

Maximální bodový zisk za celý pracovní list je 42 bodů.